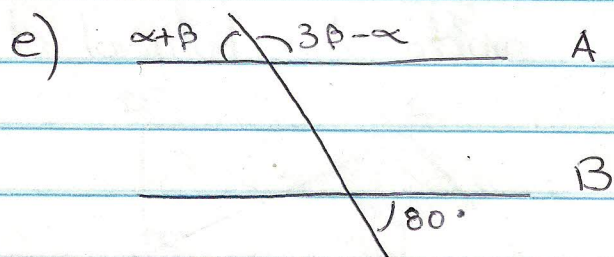
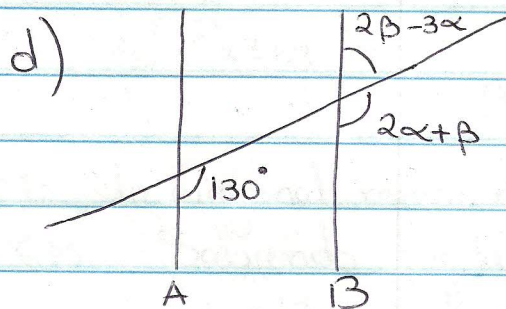
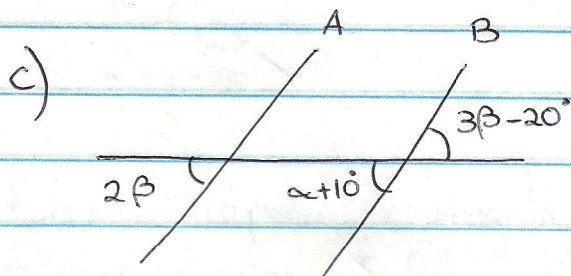
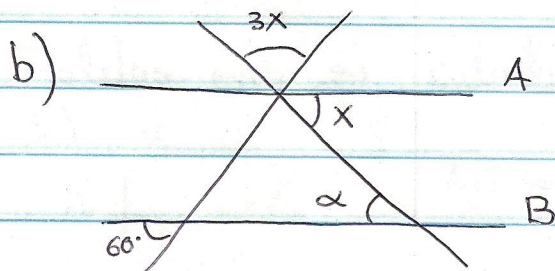
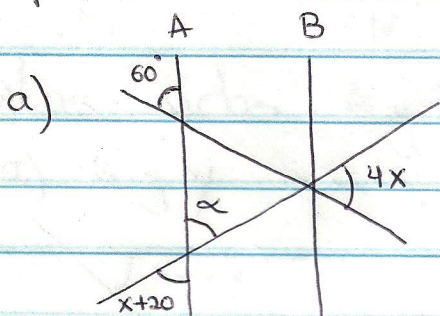


Matemática 4<sup>to</sup> Año  
 Prof. Luciana Caporale

Guía: Geometría

① En las figuras A y B son rectas paralelas. Determina para cada una el valor de  $\alpha$



② En la figura las rectas m y n son perpendiculares. Determina la relación entre los siguientes ángulos:

- a) A y F
- b) B y E
- c) B y D
- d) A, C y E

